

Les mikados

Compétences : être capable de :

- résoudre des problèmes simples,
- observer et décrire pour mener des investigations,
- calculer : addition, soustraction, multiplication,
- calculer mentalement en utilisant des additions, des soustractions et des multiplications simples.

Enoncés : Les Mikados n° 1

Audrey, Jacques et Nathalie jouent au mikado.
Voici leurs résultats sur la feuille jointe. (cf. mikado 1)

Qui a marqué le plus de points ?

Les Mikados n° 2

Elodie, Larry et Mathieu jouent au mikado.

Voici les résultats d'Elodie et de Larry sur la feuille jointe. (cf. mikado 2)
Mathieu, lui, ne veut pas montrer ses mikados.

« Tant pis », dit Elodie. « On pourra quand même savoir ce que tu as eu comme Mikado ».






Mathieu quitte la salle en colère avec ses mikados dans sa poche.

Est-ce qu'Elodie a raison ?






Qui a marqué le plus de points ?

Aide : Tu as pour t'aider la table des points, et le nombre de chaque type de mikados. (cf. mikado 3)

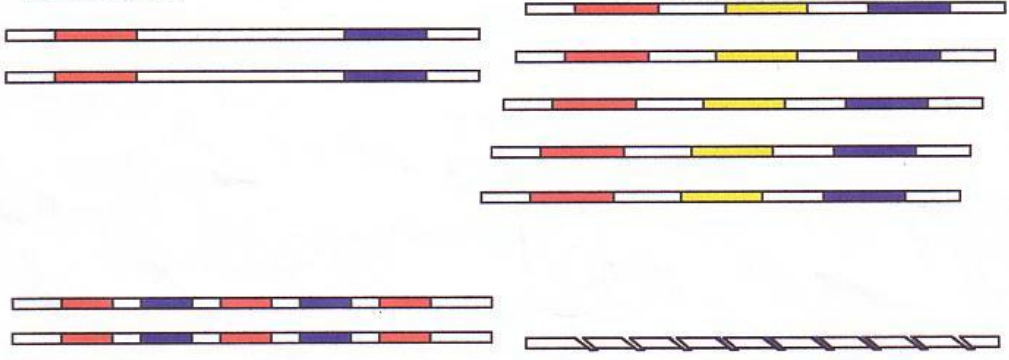
Table des points

	1 point
	2 points
	5 points
	10 points
	20 points

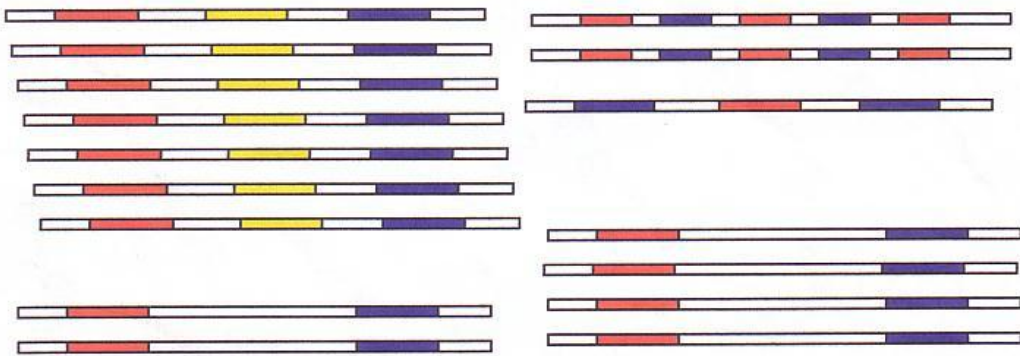
Nombre de Mikado.....41

15
15
5
5
1

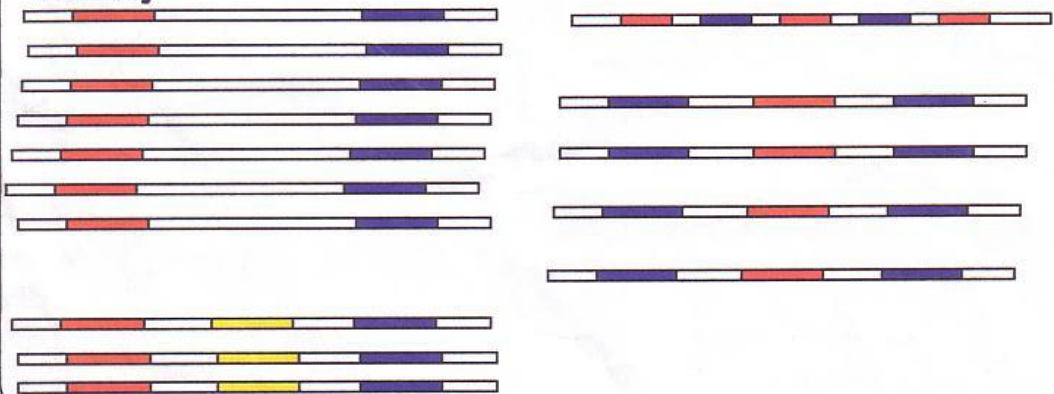
Nathalie



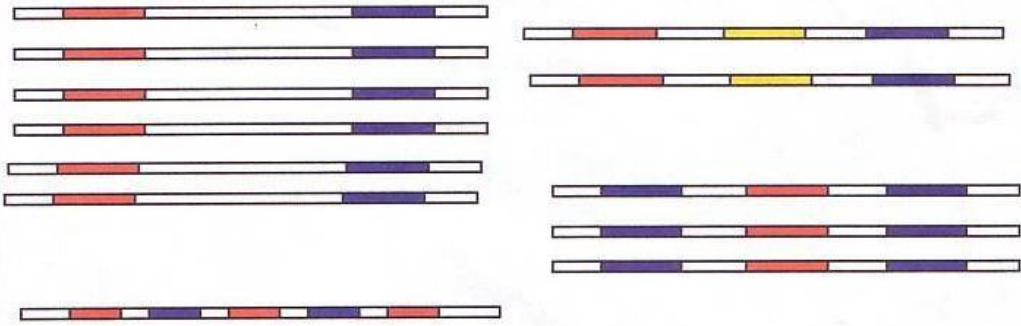
Jacques



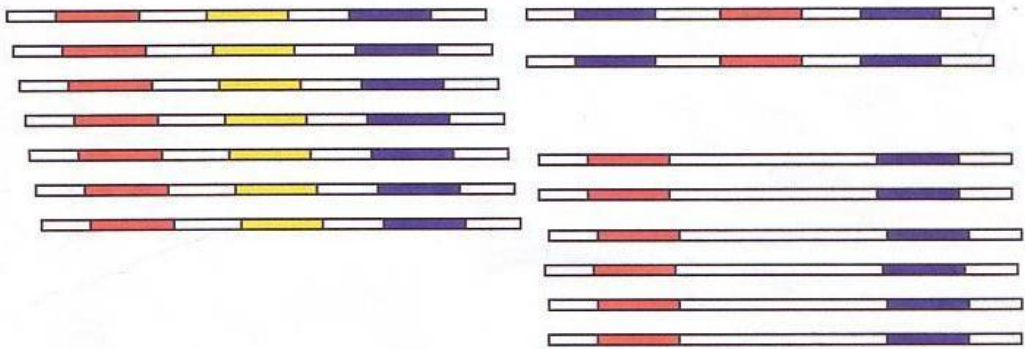
Audrey



Elodie



Larry



Mathieu

